

۱- از نظر کلاسیک ها دخالت دولت باعث .... می شود.

۱. تخصیص بهینه منابع
۲. افزایش کارایی
۳. افزایش رفاه
۴. عدم کارایی

۲- از نظر کلاسیک ها، درآمد لازم برای انجام هزینه های دولت از چه طریقی تأمین می شود؟

۱. از چه طریق وضع حد اکثر مالیات
۲. از چه طریق وضع حد اقل مالیات
۳. از چه طریق افزایش قیمت ها
۴. از چه طریق افزایش کازایی

۳- اگر هزینه های دولت در سال ۹۱ و ۹۲ بترتیب ۶۰۰ و ۹۰۰ واحد پولی و درآمدهای دولت بترتیب ۱۸۰۰ و ۲۷۰۰ واحد پولی باشد، نقش دولت در سال ۹۲ ....

۱. افزایش یافته
۲. کاهش یافته
۳. تغییر نکرده
۴. مشخص نیست

۴- در نظر داشتن هزینه فرصت هزینه های دولت به چه دلیل اهمیت دارد؟

۱. برای اندازه گیری کارایی بخش عمومی
۲. برای اندازه گیری هزینه های تمام شدنی
۳. برای اندازه گیری هزینه های انتقالی
۴. برای اندازه گیری نقش دولت

۵- دخالت های اقتصادی دولت کدامیک از اهداف زیر را شامل نمی شود؟

۱. تخصیص مؤثر منابع
۲. حفظ ثبات اقتصادی
۳. توزیع مناسب درآمد
۴. افزایش هزینه های تمام شدنی

۶- طبق نظر ماسگریو و روستو در مرحله .... اختلاف طبقاتی درآمد افزایش می یابد.

۱. رشد هزینه های سرمایه گذاری دولت
۲. رشد هزینه های اجتماعی
۳. مصرف و تولید انبوه
۴. رشد هزینه های انتقالی

۷- هزینه ایجاد بیمارستان ها جزء کدامیک از هزینه های دولت است؟

۱. هزینه های اجتماعی
۲. هزینه های تمام شدنی
۳. هزینه های انتقالی
۴. هزینه های انتقالی اجتماعی

۸- در شرایط وجود پیامدهای خارجی منفی و در صورت عدم دخالت دولت، سطح تولید چگونه است؟

۱. برابر با سطح مطلوب
۲. بیشتر از سطح مطلوب
۳. کمتر از سطح مطلوب
۴. مشخص نیست

۹- کدامیک از روش های زیر هدف داخلی کردن هزینه خارجی برای بنگاه تولید کننده مواد شیمیایی را از سوی دولت تأمین می کند؟

۱. وضع مالیات
۲. پرداخت یارانه
۳. پرداخت از سوی جامعه
۴. تعطیلی بنگاه

۱۰- کدامیک از فعالیتهای زیر دارای پیامدهای خارجی مثبت یا فواید خارجی می باشد؟

۱. تولید مواد شوینده
۲. تولید مواد رادیو اکتیویته
۳. ایجاد دوره های آموزشی
۴. ازدحام و ترافیک

۱۱- سطح تولید کارآمد کالای عمومی از دیدگاه ساموئلسون چگونه تعیین می شود؟

۱. بر اساس تقاضای جامعه
۲. بر اساس منابع موجود
۳. بر اساس فواید نهایی جامعه
۴. از برابری مجموع فواید نهایی و هزینه نهایی تولید

۱۲- کدامیک از موارد زیر کالای عمومی محسوب می شود؟

۱. صندلی
۲. پیراهن
۳. برنامه تلویزیون
۴. اتومبیل

۱۳- در کدامیک از موارد زیر دخالت دولت در کاهش نابرابری توزیع درآمد مؤثر است؟

۱. نابرابری در استعدادها
۲. نابرابری در فرصت های آموزشی
۳. نابرابری در دارائی افراد جامعه
۴. نابرابری در تلاش ها

۱۴- اگر سهم دهک اول جامعه ای در سال  $t_1$  و  $t_2$  به ترتیب  $1/2\%$  و  $1/5\%$  و سهم دهک دهم در این دو سال به ترتیب

$48\%$  و  $45\%$  باشد، وضعیت نابرابری توزیع درآمد در سال دوم چه مقدار تغییر یافته است؟

۱.  $4/1\%$  کاهش
۲.  $4/1\%$  افزایش
۳.  $3\%$  کاهش
۴. تغییر نیافته

۱۵- اگر فاصله منحنی لورنز تا خط برابری کامل معادل  $Cm2\ 50$  و مثلث OAB برابر با  $Cm2\ 120$  باشد، ضریب جینی عبارتست از:

۱.  $0/24$
۲.  $0/41$
۳.  $0/7$
۴.  $0/04$

## ۱۶- دیدگاه مطلوبیون در مورد توزیع مجدد درآمد به این صورت طرح می شود:

۱. یک تومان درآمد اضافی برای یک ثروتمند ارزشی بیشتر از یک تومان درآمد بیشتر برای فقیر را دارد
۲. یک تومان درآمد اضافی برای یک ثروتمند ارزشی معادل یک تومان درآمد بیشتر برای فقیر را دارد
۳. یک تومان درآمد اضافی برای یک ثروتمند ارزشی کمتر از یک تومان درآمد بیشتر برای فقیر را دارد
۴. مطلوبیت نهایی یک تومان درآمد اضافی برای فقرا کمتر از یک تومان درآمد اضافی برای یک ثروتمند است

## ۱۷- کدام یک از موارد زیر از سیاستهای هزینه ای دولت برای توزیع مجدد درآمد بشمار می رود؟

۱. ایجاد درآمدهای انحصاری
۲. کاهش ساعات کار
۳. کاهش قیمت ها
۴. حمایت های بهداشتی

## ۱۸- کدام یک از موارد زیر جزو حمایت های بلند مدت سازمان تأمین اجتماعی است؟

۱. بیمه بیکاری
۲. پرداخت هزینه تدفین به بازماندگان بیمه شده متوفی
۳. پرداخت بابت بارداری
۴. پرداخت مستمری از کار افتادگی

## ۱۹- کدام یک از موارد زیر جزو وظایف کمیته امداد امام خمینی می باشد؟

۱. پرداخت دیه
۲. تکدی زدایی
۳. امور ابن السبیل
۴. رفع مشکلات خانوادگی

## ۲۰- در تحلیل های خرد اقتصادی، مالیات چه نقشی دارد؟

۱. جبران هزینه های دولت
۲. تخصیص و توزیع
۳. ابزار سیاستهای اقتصادی
۴. منبع درآمد دولت

## ۲۱- از نظر "توماس هابز" پایه مناسب مالیات کدام است؟

۱. مالیات بر درآمد
۲. مالیات بر مصرف
۳. مالیات بر ثروت
۴. مالیات بر دارایی

## ۲۲- اگر سقف معافیت مالیاتی ۶۰۰۰۰۰ تومان باشد و نرخ مالیاتی تا ۸۰۰۰۰۰ تومان ۴٪ و تا یک میلیون تومان ۵٪ و بیش از یک میلیون تومان ۷٪ باشد، برای فردی با حقوق معادل ۹۰۰۰۰۰ تومان، نرخ نهایی و نرخ متوسط مالیات بترتیب عبارتند از:

۱. ۵٪ و ۱۶٪
۲. ۷٪ و ۶٪
۳. ۵٪ و ۶٪
۴. ۷٪ و ۱۶٪

## ۲۳- موقعیت تعادل جدید بعد از برقراری مالیات بر واحد فروش در جایی است که ....

۱. عرضه کننده قیمتی برابر با فایده نهایی دریافت کند
۲. مصرف کننده قیمتی برابر با هزینه نهایی پرداخت کند
۳. عرضه کننده قیمتی برابر با هزینه نهایی دریافت کند
۴. عرضه کننده قیمتی بیشتر از هزینه نهایی دریافت کند

## ۲۴- در شرایطی که منحنی عرضه کاملاً بدون کشش است، با برقراری مالیات بر واحد فروش ....

۱. تمام مالیات به عهده مصرف کننده است
۲. تمام مالیات به عهده عرضه کننده است
۳. سهم مالیات هر دو گروه افزایش می یابد
۴. سهم مالیات هر دو گروه کاهش می یابد

## ۲۵- هرچه کشش قیمتی تقاضا کمتر باشد، سهم مالیات مصرف کننده و عرضه کننده بترتیب .... می باشد.

۱. بیشتر - کمتر
۲. کمتر - بیشتر
۳. مساوی
۴. بیشتر - بدون تغییر

## ۲۶- در مواقعی که تورم شدیدی در سیستم اقتصادی وجود دارد کدام نوع سوبسید ( یارانه ) مناسبتر است؟

۱. مستقیم
۲. غیر مستقیم
۳. نقدی
۴. جنسی

## ۲۷- با برقراری مالیات یا سوبسید در بازار رقابتی کدامیک از موارد زیر اتفاق می افتد؟

۱. تخصیص غیر مؤثر منابع
۲. تخصیص مؤثر منابع
۳. افزایش رفاه
۴. افزایش تولید

## ۲۸- در شرایط برقراری مالیات بر قیمت فروش، منحنی درآمد متوسط $AR_t$ چه وضعیتی دارد؟

۱. انتقال موازی با تقاضا ( $D$ ) بسمت پایین
۲. انتقال موازی با تقاضا ( $D$ ) بسمت بالا
۳. انتقال غیر موازی با تقاضا ( $D$ ) و کاهش شیب آن
۴. انتقال غیر موازی با تقاضا ( $D$ ) و افزایش شیب آن

## ۲۹- با برقراری مالیات در بازار نهاده ها در شرایط کم کشش بودن منحنی عرضه نیروی کار، کدام حالت صحیح است؟

۱. سهم مالیات عرضه کننده عامل کار کمتر از سهم مالیات متقاضی نیروی کار می باشد
۲. سهم مالیات عرضه کننده عامل کار بیشتر از سهم مالیات متقاضی نیروی کار می باشد
۳. سهم مالیات هر دو گروه مساوی است
۴. تمام سهم مالیات بعهده عرضه کننده عامل کار می باشد

### ۳۰- در بازار انحصاری کدام یک از موارد زیر صحیح است؟

۱. برقراری مالیات بر قیمت اثر عدم کارایی بیشتری نسبت به مالیات بر واحد دارد
۲. برقراری مالیات بر قیمت اثر عدم کارایی کمتری نسبت به مالیات بر واحد دارد
۳. سوبسید بر واحد و قیمت منجر به کاهش کارایی و رفاه جامعه می شود
۴. برقراری مالیات باعث افزایش قیمت و سود خالص انحصارگر می شود

### ۳۱- برقراری مالیات بر حقوق و دستمزد چه تأثیری بر مقدار عرضه کار دارد؟

۱. افزایش می دهد
۲. کاهش می دهد
۳. تأثیری ندارد
۴. مشخص نیست

### ۳۲- در رابطه با مالیات بر شرکتها هرچه سرعت استهلاک سرمایه .... باشد، .... در پرداخت مالیات را بدنبال دارد

۱. بیشتر - افزایش
۲. کمتر - کاهش
۳. بیشتر - فرار
۴. بیشتر - صرفه جویی

### ۳۳- بودجه کل کشور برای چه مدتی تهیه می شود؟

۱. یکسال
۲. پنج سال
۳. دو سال
۴. مدت معینی ندارد

### ۳۴- اجزای بودجه عمومی دولت کدام است؟

۱. بودجه عادی و عمرانی
۲. بودجه شرکتهای دولتی و مؤسسات
۳. بودجه عمرانی و شرکتهای دولتی
۴. بودجه عادی و شرکتهای دولتی

### ۳۵- در اختیار قرار دادن $\frac{1}{12}$ اعتبار مصوب بطور علی الحساب در اختیار ذیحساب خزانه داری کل، مربوط به

اقدامات کدام مرحله بودجه می باشد؟

۱. تخصیص اعتبار
۲. ابلاغ بودجه
۳. مبادله موافقت نامه طرح و فعالیتهای
۴. تهیه و تنظیم بودجه

### ۳۶- کدام یک از موارد زیر مفهوم تسجیل را دارد؟

۱. تخصیص تمام یا قسمتی از اعتبار برای هزینه معین
۲. تعیین میزان بدهی قابل پرداخت دولت به اشخاص حقیقی یا حقوقی
۳. الزاماتی که بر ذمه دولت می باشد
۴. سندی که از سوی وزارتخانه یا ادارات دولتی برای پرداخت در وجه ذینفع صادر می شود

### ۳۷- گزارش تفریغ بودجه توسط کدام نهاد ارائه می شود؟

۱. قوه مجریه
۲. وزارت دارایی
۳. قوه قضائیه
۴. دیوان محاسبات

### ۳۸- " اصل تقدم درآمدها بر هزینه " مربوط به کدام یک از اصول بودجه است؟

۱. اصل تخصیص بودجه
۲. اصل تعادل بودجه
۳. اصل کاملیت بودجه
۴. اصل شاملیت بودجه

### ۳۹- کدام یک از عوامل زیر نتیجه فعالیتها و تصمیمات دولت هستند؟

۱. پرداختهای انتقالی
۲. نرخ مالیاتها
۳. درآمد مالیاتی
۴. استخدام عامل کار

### ۴۰- اگر تابع مصرف عبارت از $C = 100 + 0.75Y$ باشد و دولت برای تأمین ۴۰۰ میلیارد ریال هزینه به همین مقدار مالیات جمع آوری کند، تغییر نهایی در درآمد ملی چقدر خواهد بود؟

۱. ۴۰۰ میلیارد افزایش
۲. ۱۰۰ میلیارد افزایش
۳. ۳۰۰ میلیارد افزایش
۴. تغییر نمی کند



۱- بر اساس نظریه کلاسیک اولیه در صورت وجود شرایط لازم برای رقابت، مکانیزم بازار خود مسئله کارآیی ...

۱. و تخصیص بهینه منابع را حل خواهد نمود.

۲. را حل خواهد نمود و نیازی به وجود دخالت دولت نمی باشد.

۳. و تخصیص بهینه منابع را با وجود دخالت دولت حل خواهد نمود.

۴. و مشکل وجود دخالت دولت را حل خواهد نمود.

۲- دولت مورد نظر کلاسیک ها برای انجام سه گروه از وظایف محوله، از چه طریقی هزینه مورد نیاز را تأمین می کند؟

۱. فروش صنایع و گسترش بنگاهها

۲. برقراری مالیاتها

۳. واگذاری انحصارات

۴. برقراری مالیات بر منابع ملی

۳- هزینه های تمام شدنی ادعای است برای منابع

۱. انسانی

۲. غیراقتصادی

۳. اقتصادی

۴. فیزیکی

۴- با توجه به داده های فرضی جدول، جهت گیری هزینه های دولت به طور نسبی به سمت رشد بیشتر کدام هزینه بوده است؟

سال هزینه	۱۳۶۰	۱۳۶۱	۱۳۶۲	۱۳۶۳	۱۳۶۴	۱۳۶۵
تمام شدنی	۱۳۰۰	۱۴۰۰	۱۵۵۰	۱۶۶۵	۱۷۷۵	۱۸۸۵
انتقالی	۵۵۵	۶۵۵	۷۷۵	۸۹۵	۱۰۲۰	۱۱۴۵

۱. تا سال ۱۳۶۳ هزینه های انتقالی و سپس تمام شدنی

۲. تمام شدنی

۳. تا سال ۱۳۶۳ تمام شدنی و سپس انتقالی

۴. انتقالی

۵- در یک تحلیل زمانی از اندازه دولت، می توان گفت حداقل از زمان کلاسیک ها تا ابتدا ده ۹۰ میلادی:

۱. دولت در کشورهای در حال توسعه به سمت پذیرش نقش بیشتر در اقتصاد حرکت کرده است.

۲. دولت در کشورهای صنعتی به سمت پذیرش نقش بیشتر در اقتصاد حرکت کرده است.

۳. دولت در بیشتر کشورهای جهان به سمت پذیرش نقش بیشتر در اقتصاد حرکت کرده است.

۴. دولت در اکثر کشورهای صنعتی به سمت کاهش نقش خود در اقتصاد حرکت کرده است.



بر اساس الگوی ماسگریو و رستو کدام گزینه برای مرحله اول رشد و توسعه در مورد نسبت  $\frac{I_g}{I}$  درست است؟

۱. از ۱۰٪ به ۱۹٪ به ۱۴٪ به ۱۷٪ به ۱۶٪ می رسد
۲. از ۱۲٪ به ۱۷٪ به ۱۹٪ به ۲۴٪ به ۳۰٪ می رسد
۳. از ۱۵٪ به ۱۷٪ به ۲۵٪ به ۲۱٪ به ۱۶٪ می رسد
۴. از ۱۰٪ به ۱۱٪ به ۱۹٪ به ۱۷٪ به ۱۴٪ می رسد

۷- بر اساس نظریه واگنر در یک اقتصاد، اندازه نسبی دولت افزایش خواهد یافت چنانچه:

۱. درآمد سرانه افزایش داشته باشد.
۲. تولید ناخالص ملی سالانه ۲٪ افزایش داشته باشد.
۳. تولید ملی با نرخ ثابت ۲٪ رشد داشته باشد.
۴. نرخ رشد تولید ملی از نرخ رشد جمعیت کمتر باشد.

۸- یکی از شرایط عمده برای عملکرد بازار رقابتی با قبول شرایط خاص برای توابع مطلوبیت و تولید کدام گزینه است؟

۱. عدم وجود اطلاعات کامل از شرایط بازار
۲. متفاوت بودن کالاها که به وسیله تولیدکنندگان به بازار عرضه می شوند.
۳. یکسان بودن کالاها که به وسیله تولیدکنندگان به بازار عرضه می شوند.
۴. عدم وجود مصرف کنندگان کافی در بازار.

۹- در شرایط نبود پیآمدهای خارجی ...

۱. قیمت گذاری بر اساس هزینه متوسط تولید، متوسط رفاه را ایجاد می کند.
۲. قیمت گذاری بر اساس هزینه متوسط تولید، حداکثر رفاه را ایجاد می کند.
۳. قیمت گذاری بر اساس هزینه نهایی تولید، حداکثر رفاه را ایجاد می کند.
۴. قیمت گذاری بر اساس هزینه نهایی تولید، متوسط رفاه را ایجاد می کند.

۱۰- در صورت پی آمد خارجی غیراقتصادی، چنانچه دولت با دخالت خود، هدف داخلی کردن هزینه خارجی برای بنگاه را دنبال کند، کدام گزینه یکی از طرقی است که دولت می تواند به این هدف دست یابد؟

۱. برقراری مالیات برابر هزینه نهایی خارجی
۲. برقراری مالیات برابر فایده نهایی خارجی
۳. پرداخت خسارت به زیان دیده توسط دولت
۴. جلوگیری از تغییر تکنیک تولید

## ۱۱- در صورت وجود پی آمد خارجی کدام گزینه نشان دهنده عدم کارآمدی سطح تولید است؟

۱. فایده نهایی خارجی + فایده نهایی داخلی < هزینه نهایی
۲. فایده نهایی خارجی + فایده نهایی داخلی > هزینه نهایی
۳. فایده نهایی خارجی + فایده نهایی داخلی = هزینه نهایی
۴. هزینه نهایی داخلی + فایده نهایی خارجی < فایده نهایی داخلی

## ۱۲- با توجه به جدول کدام گزینه به ویژگی گروه کالاها اشاره دارد؟

	قابل تخصیص منافع	غیر قابل تخصیص منافع
رقابت پذیر	$A$	$U$
غیر قابل رقابت	$B$	$P$

۱.  $P$  گروه کالاهای عمومی ناخالص
۲.  $P$  گروه کالاهای عمومی خالص
۳.  $B$  گروه کالاهای خصوصی
۴.  $U$  گروه کالاهای خصوصی ناخالص

## ۱۳- در بحث کالاهای عمومی و سواری مجانی گفته می شود:

۱. اضافه شدن یک استفاده کننده دیگر، هزینه جدیدی ایجاد نخواهد شد.
۲. اضافه شدن یک استفاده کننده دیگر، هزینه جدیدی ایجاد خواهد شد.
۳. هزینه نهایی استفاده از کالاهای عمومی خالص بزرگتر از صفر است.
۴. هزینه نهایی استفاده از کالاهای خصوصی خالص برابر صفر است.

## ۱۴- بر اساس نظر ساموئلسون چگونه می توان به سطح تولید کارآمد برای کالاهای عمومی دست یافت:

۱. از برابر قرار دادن مجموع هزینه ها و فایده نهایی داخلی
۲. از برابر قرار دادن مجموع فواید نهایی و هزینه نهایی تولید
۳. از جمع عمودی منحنی های تقاضای افراد برای کالای عمومی
۴. از جمع افقی منحنی های تقاضای افراد برای کالای عمومی

## ۱۵- خانوارها درآمد خود را از سه منبع و جریان عمده به دست می آورند. کدام گزینه از این سه منبع محسوب نمی شود؟

۱. دارایی ها و اموال
۲. دستمزد و حقوق
۳. تفاوت درآمدی و طراحان کامپیوتری
۴. دولت

## ۱۶- کدام گزینه صحیح است؟

۱. هر چقدر منحنی لورنز بیشتر نسبت به محور افقی محدب باشد توزیع درآمد نابرابرتر است.
۲. هر چقدر منحنی لورنز کمتر نسبت به محور افقی محدب باشد توزیع درآمد نابرابرتر است.
۳. هر چقدر منحنی لورنز کمتر نسبت به محور افقی محدب باشد ضریب جینی به عدد یک نزدیکتر است.
۴. هر چقدر منحنی لورنز بیشتر نسبت به محور افقی محدب باشد ضریب جینی به عدد صفر نزدیکتر است.

## ۱۷- بوکنن با مطالعات خود نشان داد انتقال سوبسید به فقرا ...

۱. سبب افزایش فراغت و استراحت بسیار زیاد آنها می شود.
۲. عاملی است برای کاهش میزان کار آنها.
۳. امکان مهارت افزایی آنها را کاهش می دهد.
۴. نمی تواند الزاماً عامل کاهش کار آنها باشد.

## ۱۸- دیدگاه مطلوبیون در توزیع مجدد درآمد (توزیع عادلانه درآمد) بیانی از کدام گزینه است؟

۱. در شرایط نزولی بودن مطلوبیت نهایی و وقتی توابع مطلوبیت یکسان هستند، مطلوبیت نهایی یک واحد اضافی برای یک فرد ثروتمند از یک فرد فقیر بیشتر است.
۲. یک واحد درآمد اضافی برای یک فقیر ارزشی کمتر از یک واحد درآمد بیشتر برای ثروتمند دارد.
۳. در شرایط نزولی بودن مطلوبیت نهایی و وقتی توابع مطلوبیت یکسان هستند، مطلوبیت نهایی یک واحد اضافی برای یک فرد فقیر و یک فرد ثروتمند برابر است.
۴. یک واحد درآمد اضافی برای یک ثروتمند ارزشی کمتر از یک واحد درآمد بیشتر برای فقیر دارد.

## ۱۹- کدام گزینه از حمایت های سازمان تأمین اجتماعی محسوب نمی شود؟

۱. حمایت های درمانی
۲. طرح شهید رجایی
۳. حمایت های کوتاه مدت
۴. حمایت های بلندمدت

## ۲۰- تمام مالیاتها شامل دو جزء هستند که عبارتند از:

۱. معیار و نرخ. معیار نسبتی از ارزش مالیاتی است.
۲. پایه و نرخ. نرخ معیاری است که مالیات بر آن برقرار می شود.
۳. ارزش و نرخ. نرخ نسبتی از ارزش مالیاتی است.
۴. پایه و نرخ. پایه معیاری است که مالیات بر آن برقرار می شود.

۲۱- فرض کنید بر اساس قانون مالیات بر درآمد، درآمد تا ۴/۰۰۰/۰۰۰ ریال معاف از مالیات است و به درآمد مازاد بر

۴/۰۰۰/۰۰۰ ریال تا ۱۰/۰۰۰/۰۰۰ ریال نرخ مالیات ۱۰٪ و از ۱۰/۰۰۰/۰۰۰ تا ۲۰/۰۰۰/۰۰۰ ریال نرخ مالیات ۲۰٪ و از

۲۰/۰۰۰/۰۰۰ ریال به بالا نرخ مالیات ۴۰٪ تعلق میگیرد. برای فردی که ۴۴/۰۰۰/۰۰۰ ریال درآمد دارد نرخ نهایی و نرخ متوسط مالیات کدام گزینه است؟

۱. نرخ نهایی ۴۰٪ و نرخ متوسط ۳۵٪

۲. نرخ نهایی ۴۰٪ و نرخ متوسط ۲۷٪

۳. نرخ نهایی ۳۵٪ و نرخ متوسط ۲۰٪

۴. نرخ نهایی ۳۵٪ و نرخ متوسط ۲۴٪

۲۲- مالیات مبتنی بر اصل فایده

۱. نمی تواند در توزیع مجدد درآمد نقش داشته باشد.

۲. می تواند در توزیع مجدد درآمد نقش داشته باشد

۳. به تمام آحاد مردم فایده می رساند.

۴. به صورت برابری افقی به مقدار بیشتری در توزیع درآمد نقش دارد.

۲۳- توماس هابز معتقد بود که مردم باید بر اساس ..

۱. آنچه تقاضا می شود مالیات بدهند نه عرضه بنگاهها

۲. میزان درآمدها مالیات بدهند نه با توجه به مصرفشان

۳. آنچه عرضه می شود مالیات بدهند نه تقاضایشان

۴. آنچه مصرف می کنند مالیات بدهند نه با توجه به درآمدها

۲۴- کدام گزینه بار مالیاتی (وقوع مالیاتی) را تعیین می کند؟

۱. تغییرات در عرضه

۲. تغییرات نهایی

۳. تغییرات در تقاضا

۴. تغییرات در رفاه بعضی از خانوارها

۲۵- در تحلیل های جزئی از مکانیزم قیمت ها به منظور بررسی تأثیر مالیات ...

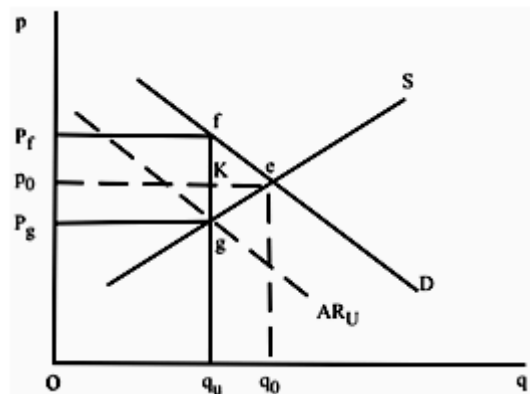
۱. سایر بازارهای دیگر نیز که مالیات در آن برقرار نشده است، با تحلیل جزئی مورد مطالعه قرار می گیرند.

۲. سایر بازارهای دیگر نیز که مالیات در آن برقرار نشده است، مورد مطالعه قرار می گیرند.

۳. فقط بازاری مورد مطالعه قرار میگیرد که مالیات در آن برقرار شده است.

۴. این تحلیل فقط در بازارها و اقتصادهای بسیار بزرگ کاربرد دارد.

۲۶- با توجه به شکل کدام گزینه قیمت مصرف کننده و سهم مالیات مصرف کننده را پس از برقراری مالیات نشان می دهد؟



۱.  $P_g$  و  $P_g P.K_g$  ۲.  $P_f$  و  $P_f P.f_e$

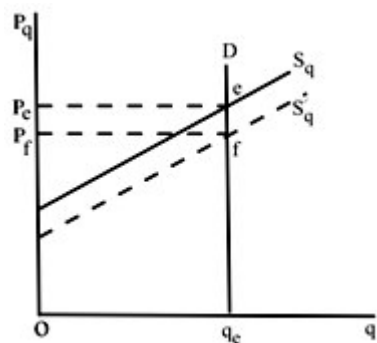
۳.  $P_f$  و  $P_f P.f_K$  ۴.  $P_g$  و  $P_g P.e_g$

۲۷- چنانچه پس از برقراری مالیات بر واحد (کالای X)، قیمت برای مصرف کننده دقیقاً به اندازه مالیات بر واحد (u) افزایش یابد، منحنی عرضه برای کالای X

۱. کاملاً کشش پذیر است. ۲. کاملاً بدون کشش است.

۳. با کشش واحد است. ۴. با کشش بزرگتر از واحد است.

۲۸- با توجه به شکل کدام گزینه قیمت دریافتی عرضه کننده و سهم سوبسید عرضه کننده را پس از برقراری سوبسید نشان میدهد؟



۱.  $P_f$  ، سهم سوبسید  $P_e P.f_e$  ۲.  $P_f$  ، سهم سوبسید  $P_e P.f_e$

۳.  $P_e$  و سهم سوبسید  $P_e$  ۴.  $P_e$  ، سهم سوبسید  $P_e P.f_e$

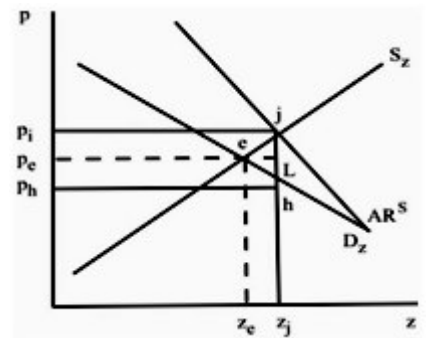
## ۲۹- معمولاً مالیات و سوبسید در بازار رقابتی ...

۱. تأثیری بر اثرات سیاست های توزیع درآمد ندارد.
۲. تخصیص مؤثر و کارآمد منابع را به دنبال دارد.
۳. جابه جایی منابع بهوجود نمی آورد.
۴. تخصیص غیر مؤثر منابع را به دنبال دارد.

## ۳۰- در مالیات بر قیمت فروش نرخ مالیاتی

۱. برای شرایط تعادل ثابت است.
۲. تغییر می کند.
۳. برای هر قیمتی تغییر می کند.
۴. ثابت است.

## ۳۱- با توجه به شکل پس از برقراری سوبسید بر قیمت فروش، قیمت دریافتی عرضه کننده و قیمت پرداختی مصرف کننده در بازار رقابتی کدام گزینه است؟



۱.  $P_e$  قیمت عرضه کننده،  $P_i$  قیمت مصرف کننده
۲.  $P_i$  قیمت عرضه کننده،  $P_h$  قیمت مصرف کننده
۳.  $P_e$  قیمت عرضه کننده و قیمت مصرف کننده
۴.  $P_i$  قیمت عرضه کننده،  $P_h$  قیمت مصرف کننده

## ۳۲- برقراری مالیات بر قیمت در بازارهای انحصاری می تواند:

۱. سطح تولید را تا سطح تولید بازار رقابتی افزایش دهد.
۲. اثر عدم کارایی بیشتری نسبت به مالیات بر واحد داشته باشد.
۳. اثر عدم کارایی کمتری نسبت به مالیات بر واحد داشته باشد.
۴. سطح تولید را افزایش دهد.

## ۳۳- با فرض تابع مطلوبیتی به صورت $u = u(y, L)$ که $L$ ساعات فراغت و $y$ درآمد را نشان دهد می توان نوشت:

۱.  $\frac{\partial u}{\partial y} > 0, \frac{\partial u}{\partial L} > 0$
۲.  $\frac{\partial u}{\partial y} > 0, \frac{\partial u}{\partial L} < 0$
۳.  $\frac{\partial y}{\partial u} > 0, \frac{\partial L}{\partial u} > 0$
۴.  $\frac{\partial y}{\partial u} < 0, \frac{\partial L}{\partial u} > 0$

۳۴- اگر رابطه سود به صورت  $\Pi - R - WL - \theta rk$  در نظر گرفته شود برای محاسبه سود خالص نرخ واقعی استهلاک ( $\theta$ ) چه مقدار است؟

۱.  $\theta = 1$       ۲.  $\theta > 1$       ۳.  $\theta < 1$       ۴.  $\theta = 0$

۳۵- اگر ماشینی به ارزش ۱/۴۰۰/۰۰۰ ریال خریداری شده باشد و عمر این ماشین ۴ سال در نظر گرفته شود. به روش کسر جمع سالهای عمر سرمایه، استهلاک سالهای سوم و چهارم کدام گزینه است؟

۱. سال سوم = ۴۷۰/۰۰۰ ریال، سال چهارم = ۳۵۰/۰۰۰  
 ۲. سال سوم = ۴۶۰/۰۰۰ ریال، سال چهارم = ۵۸۰/۰۰۰  
 ۳. سال سوم = ۳۸۰/۰۰۰ ریال، سال چهارم = ۴۸۰/۰۰۰  
 ۴. سال سوم = ۲۸۰/۰۰۰ ریال، سال چهارم = ۱۴۰/۰۰۰

۳۶- تعیین میزان بدهی قابل پرداخت کدام گزینه است؟

۱. حواله      ۲. تسجیل      ۳. تشخیص      ۴. تعهد

۳۷- عدم تهاثر درآمدها و هزینه ها در کدام اصل بودجه باید رعایت شود:

۱. شاملیت      ۲. جامعیت      ۳. تعادل      ۴. تفصیل

۳۸- اگر در یک اقتصاد منابع بیکار وجود داشته باشد، افزایش در هزینه های دولت ...

۱. نمی تواند منجر به افزایش در ستاده ها و درآمد ملی شود.  
 ۲. می تواند منجر به افزایش در ستاده ها و درآمد ملی شود.  
 ۳. قطعاً منجر به افزایش مالیاتها می شود.  
 ۴. قطعاً منجر به کاهش در تقاضای کل می شود.

۳۹- زمانی که درآمد ملی برابر ۴۰/۰۰۰ واحد است دولت تصمیم می گیرد مخارج خود را ۹۰۰ واحد افزایش دهد. با فرض اینکه  $MPC = 0/9$  باشد. درآمد ملی پس از افزایش مخارج دولت کدام گزینه است؟

۱. ۴۷۹۰۰ واحد      ۲. ۴۸۱۰۰ واحد      ۳. ۴۰۹۰۰ واحد      ۴. ۴۹۰۰۰ واحد

۴۰- چنانچه دولت در سطح درآمد ملی ۲۰/۰۰۰ واحد تصمیم بگیرد به طور همزمان مخارج خود و مالیات را به میزان ۱۹۰ واحد افزایش دهد پس از اجرای این تصمیم دولت، تغییر در درآمد ملی چه میزان است ( $MPC = 0/75$ )

۱. ۱۹۰ واحد      ۲. ۷۶۰ واحد      ۳. تغییری نمی کند.      ۴. ۵/۱۴۲ واحد





1	الف
2	ب
3	ج
4	د
5	ج
6	ب
7	الف
8	ج
9	ج
10	الف
11	الف
12	ب
13	الف
14	ب
15	ج
16	الف
17	د
18	د
19	ب
20	د
21	ب
22	الف
23	د
24	ب
25	ج
26	ج
27	الف
28	ج
29	د
30	د
31	د
32	ج
33	الف
34	الف
35	د
36	ب
37	ب
38	ب
39	د
40	الف

۱. در دوره کلاسیک‌های اولیه:

الف- بازارهایی وجود داشته است که به شرایط رقابتی نزدیک بوده است.

ب- بخش کشاورزی دور از شرایط رقابتی بوده است.

ج- فقط بخش صنعت به شرایط رقابتی نزدیک بوده است.

د- پیچیدگی بالایی در تحولات تکنولوژی و تکنیک تولید وجود داشته است.

۲. وجه تمایز عمده مالیه جدید و مالیه قدیم در چیست؟

الف- گسترش بنگاه‌های اقتصادی بزرگ و رشد سهم آن‌ها از بازار

ب- نظریه‌های جدید در بخش هزینه‌های دولت و بررسی فعالیت‌های اقتصادی تولیدی دولت است.

ج- گسترش نظریه کلاسیک‌ها و طرح دولت‌های بزرگ

د- مخرب بودن مالیات‌ها در کارایی بازارها با حضور دولت‌های بزرگ

۳. سهم هزینه دولت در یک کشور فرضی برابر ۱۱/۰ است. چنانچه درآمد ملی ۱۱۰۰۰ واحد باشد هزینه دولت کدام گزینه است.

الف- ۱۱۲۰ ب- ۱۱۱۰

ج- ۱۲۱۰ د- ۱۰۱۱

۴. بیشتر شدن هزینه‌های تمام شدنی بدین معنی است که:

الف- دولت حمایت بیشتری از اقشار ضعیف می‌کند.

ب- دولت کالا و خدمات بیشتری را دریافت می‌کند.

ج- دولت تمایل به کوچک شدن دارد.

د- دولت وظایف خود را تغییر داده است.

۵. در مرحله اول رشد و توسعه اقتصادی

الف- نسبت مخارج سرمایه‌گذاری دولت به کل مخارج سرمایه‌گذاری افزایش می‌یابد.

ب- نسبت مخارج سرمایه‌گذاری دولت به کل مخارج سرمایه‌گذاری کاهش می‌یابد.

ج- نسبت مخارج سرمایه‌گذاری دولت به کل مخارج سرمایه‌گذاری ابتدا کاهش و سپس افزایش می‌یابد.

د- نسبت مخارج سرمایه‌گذاری دولت به کل مخارج سرمایه‌گذاری ابتدا افزایش و سپس کاهش می‌یابد.

۶. از نظر واکنر آموزش، فرهنگ و خدمات رفاهی، کالاهایی هستند که:

الف- کشش درآمدی آن‌ها کم است.

ب- کشش درآمدی آن‌ها زیاد است.

ج- با افزایش درآمد خانوارها، عرضه این کالاها از سوی دولت کاهش می‌یابد.

د- با افزایش درآمد خانوارها، تقاضای این کالاها کاهش می‌یابد.

۷. تولیدات بنگاه‌های A و B به ترتیب با پی‌آمد خارجی غیراقتصادی (منفی) و اقتصادی (مثبت) همراه است. با دخالت دولت:

الف- تولیدات بنگاه A افزایش و بنگاه B کاهش می‌یابد.

ب- هزینه‌های تولید هر دو بنگاه کاهش می‌یابد.

ج- تولیدات بنگاه A کاهش و بنگاه B افزایش می‌یابد.

د- هزینه‌های تولید بنگاه A کاهش و بنگاه B افزایش می‌یابد.

۸. با فرض تولید کل توسط بنگاه C و وجود پی‌آمد خارجی مثبت، کدام گزینه درست است.

الف- مجموع هزینه نهایی و فایده داخلی < فایده خارجی

ب- مجموع فواید نهایی داخلی و خارجی > هزینه نهایی

ج- مجموع هزینه نهایی و فایده خارجی > فایده نهایی داخلی

د- مجموع فواید نهایی داخلی و خارجی < هزینه نهایی

۹. کالایی که رقابت پذیر و منافع آن قابل تخصیص باشد، کالایی است:

الف- عمومی خالص ب- می تواند عمومی باشد.

ج- عمومی د- خصوصی

۱۰. اضافه شدن یک استفاده کننده دیگر به کالاهای عمومی خالص، هزینه جدیدی ایجاد نخواهد کرد. یعنی هزینه نهایی استفاده

از کالای عمومی خالص:

الف- منفی است ب- صفر است

ج- صفر نیست بلکه مقدار معین و ثابتی است. د- نزولی و در حال کاهش است.

۱۱. سطح تولید کارآمد کالای عمومی

الف- از جمع افقی منحنی‌های تقاضای تک تک اشخاص به دست می‌آید.

ب- بر مبنای توافق عمومی و با رأی‌گیری بدست می‌آید.

ج- از رابطه "مجموع فواید داخلی و خارجی = هزینه نهایی تولید" به دست می‌آید.

د- از رابطه "مجموع فواید نهایی = هزینه نهایی تولید" به دست می‌آید.

۱۲. وضع مالیات بر انحصارگر به چه نتیجه‌ای می‌انجامد؟

الف- دورتر شدن از وضعیت کارآمد. ب- حرکت به سمت کارایی در تخصیص منابع

ج- افزایش رفاه اجتماعی از طریق تولید بیشتر د- نزدیک شدن وضعیت بنگاه انحصاری به وضعیت رقابتی

۱۳. کدام متفکر زیر از طرفداران دخالت دولت در نحوه توزیع درآمدها است؟

الف- استوارت میل ب- هابز

ج- لاک د- اسمیت

۱۴. اگر منحنی لورنز منطبق بر خط توزیع برابر درآمد شود آنگاه:

الف- توزیع درآمد کاملاً برابر و ضریب جینی یک است.

ب- توزیع درآمد کاملاً نابرابر و ضریب جینی صفر است.

ج- توزیع درآمد کاملاً برابر و ضریب جینی صفر است.

د- توزیع درآمد کاملاً نابرابر و ضریب جینی یک است.

۱۵. بر اساس نظر مطلوبیون انتقال درآمد از ثروتمندان به فقرا:

الف- مطلوبیت نهایی پول را برای فقرا افزایش می‌دهد.

ب- مطلوبیت کل جامعه را افزایش می‌دهد.

ج- مطلوبیت نهایی پول را برای ثروتمندان کاهش می‌دهد.

د- مطلوبیت کل جامعه را افزایش نمی‌دهد.

۱۶. اجرای طرح شهید رجایی از فعالیت‌های کدام گزینه محسوب می‌شود؟

الف- سازمان بهزیستی

ب- سازمان تامین اجتماعی

ج- کمیته امداد امام

د- صندوق بازنشستگی کشور

۱۷. کدام گزینه درست است؟

الف- مالیات بر ذخیره ثروت و جریان درآمد یکسان است.

ب- تمام مالیات‌ها شامل دو جزء پایه و نرخ مالیات هستند.

ج- در ایران، مالیات بر حقوق و ارث پایه مالیاتی است.

د- نرخ مالیات تعیین کننده پایه مالیاتی است.

۱۸. در مالیات‌های تنازلی

الف- نرخ نهایی مالیات از نرخ متوسط مالیات بیشتر است.

ب- نرخ نهایی مالیات معادل نرخ متوسط مالیات است.

ج- خانوارهای پردرآمد در مجموع مالیات کمتری می‌پردازند.

د- نرخ نهایی مالیات از نرخ متوسط مالیات کمتر است.

۱۹. مالیات مبتنی بر اصل فایده:

الف- بر توزیع مجدد درآمد نقش موثری دارد.

ب- کارکردی همانند اصل توانایی پرداخت دارد.

ج- مالیاتی است که از تمام افراد جامعه اخذ می‌شود.

د- نمی‌تواند در توزیع مجدد درآمد نقش داشته باشد.

۲۰. اگر قیمت نهاده‌های کار یا سرمایه پس از مالیات کاهش یابد:

الف- درآمد صاحبان این دو نهاده افزایش می‌یابد.

ب- درآمد صاحبان این دو نهاده کاهش می‌یابد.

ج- درآمد کارگران(نهاده کار) افزایش و درآمد صاحبان سرمایه کاهش می‌یابد.

د- درآمد صاحبان سرمایه افزایش و درآمد کارگران کاهش می‌یابد.

۲۱. مالیات بر واحد برقرار شده است. سهم مالیات بنگاه و سهم مالیات خانوار(بار مالیاتی) به کدام گزینه بستگی دارد؟

الف- قیمت‌های بازار

ب- کشش منحنی‌های عرضه و تقاضا

ج- درآمد و سود بنگاه

د- درآمد خانوارها

۲۲. چنانچه منحنی عرضه برای کالایی کاملاً کشش‌پذیر باشد، با برقراری مالیات بر واحد فروش

الف- تمام مالیات را عرضه کننده می‌پردازد.

ب- تمام مالیات را متقاضی می‌پردازد.

ج- سهم مالیات عرضه کننده بستگی به کشش منحنی تقاضا دارد.

د- سهم مالیات متقاضی بستگی به کشش منحنی تقاضا دارد.

۲۳. با برقراری سوبسید بر واحد در بازار رقابتی و با فرض اینکه هیچکدام از منحنی‌های عرضه و تقاضا افقی و عمودی نمی‌باشد:

الف- قیمت برای مصرف کننده کاهش و برای عرضه کننده افزایش می‌یابد.

ب- قیمت برای مصرف کننده و برای عرضه کننده به یک میزان کاهش می‌یابد.

ج- قیمت برای مصرف کننده و برای عرضه کننده به یک میزان تغییر می‌کند.

د- قیمت برای مصرف کننده افزایش و برای عرضه کننده کاهش می‌یابد.

۲۴. به‌طور معمول برقراری مالیات و سوبسید در بازار رقابتی چه پی‌آمدی را به‌دنبال دارد؟

الف- کاهش قیمت‌ها در بازار نهاده‌ها

ب- تخصیص کارآمدتر منابع

ج- تخصیص غیرموثر منابع

د- کاهش قیمت‌ها در بازار ستاده‌ها

۲۵. در شرایطی که منحنی عرضه نیروی کار کاملاً کشش‌پذیر باشد (منحنی عرضه کار عمودی است) و مالیات بر بازار نهاده به

صورت کسورات بازنشستگی برقرار شود کدام گزینه درست است؟

الف- کل مالیات به بنگاه متقاضی کار منتقل می‌شود.

ب- کل مالیات به نیروی کار منتقل می‌شود.

ج- سهم مالیات بنگاه متقاضی نیروی کار با نرخ ثابتی افزایش می‌یابد.

د- سهم مالیات نیروی کار با نرخ ثابتی افزایش می‌یابد.

۲۶. کدام گزینه زیر در کنترل مستقیم دولت قرار دارد؟

الف- پرداخت‌های انتقالی

ب- میزان کسری بودجه

ج- میزان درآمد مالیاتی

د- سود و بهره پرداختنی

صحیح است؟

الف- تولید ملی ۱۰۰ واحد افزایش می‌یابد.

ب- تولید ملی ۱۰۰ واحد کاهش می‌یابد.

ج- تولید ملی تغییر نمی‌کند.

د- انجام این امر برای دولت میسر نیست.

۲۸. با افزایش کسورات و کاهش دستمزد و حقوق، کدام گزینه درست است؟

الف- عرضه نیروی کار می‌تواند هم کاهش و هم افزایش یابد.

ب- عرضه نیروی کار قطعاً کاهش می‌یابد.

ج- عرضه نیروی کار افزایش می‌یابد چون تقاضای نیروی کار افزایش می‌یابد.

د- عرضه نیروی کار قطعاً افزایش می‌یابد.

۲۹. اگر رابطه سود به صورت  $\pi = R - WL - rK$  در نظر گرفته شود نرخ واقعی استهلاک ( $\theta$ ) کدام گزینه است؟

الف-  $\theta < 1$

ب-  $\theta = 0$

ج-  $\theta > 1$

د-  $\theta = 1$

۳۰. اگر عمر مفید یک دارایی سرمایه‌ای ۴ سال باشد و ارزش آن ۱۰۰۰۰ واحد باشد به روش کسر جمع سال‌های عمر سرمایه، ذخیره استهلاک برای سال‌های اول و دوم کدام گزینه است؟

الف- سال اول ۱۰۰۰ واحد، سال دوم ۲۰۰۰ واحد

ب- سال اول ۲۵۰۰ واحد، سال دوم ۲۵۰۰ واحد

ج- سال اول ۲۵۰۰ واحد، سال دوم ۳۵۰۰ واحد

د- سال اول ۴۰۰۰ واحد، سال دوم ۳۰۰۰ واحد.

۳۱. مراحل تفصیلی اجرای بودجه (از مرحله دریافت وجه تا پرداخت آن به ذینفع)، ۵ مرحله است. سه مرحله اولیه آن کدام است؟

الف- تشخیص، تأمین اعتبار، تعهد.

ب- تشخیص، تسجیل، حواله

ج- تأمین اعتبار، تشخیص، تعهد.

د- تأمین اعتبار، تسجیل، حواله

۳۲. نظارت پارلمانی در پایان سال مالی از چه طریقی اعمال می‌گردد؟

الف- دیوان محاسبات کشور به نظارت حین خرج

ب- تخصیص اعتبار

ج- لایحه تفریغ بودجه

د- سازمان بازرسی کشور

۳۳. بر اساس کدامیک از اصول بودجه، نباید درآمدها از هزینه‌ها تهاتر گردند و بودجه باید به صورت ناخالص در سند بودجه درج گردد؟

الف- اصل انعطاف‌پذیری

ب- اصل تخصیص

ج- اصل شاملیت

د- اصل کاملیت یا جامعیت

\* درآمد تا ۱۰۰۰۰۰ ریال معاف از مالیات است. درآمد مازاد بر ۱۰۰۰۰۰ ریال تا ۴۰۰۰۰۰ ریال با نرخ مالیات ۱۰ درصد و از ۴۰۰۰۰۰ ریال تا ۸۰۰۰۰۰ ریال با نرخ مالیات ۲۰ درصد و از ۸۰۰۰۰۰ ریال به بالا با نرخ مالیات ۴۰ درصد محاسبه می‌شود. برای کسیکه درآمدی معادل ۱۵۰۰۰۰۰ ریال در ماه دارد.

با توجه به متن بالا به سوالات ۳۴,۳۵ پاسخ دهید:

۳۴. مجموع مالیاتی را که فرد می‌پردازد کدام گزینه است؟

الف- ۴۰۰۰۰۰ ریال

ب- ۳۹۰۰۰۰ ریال

ج- ۳۸۵۰۰۰ ریال

د- ۳۷۵۰۰۰ ریال

۳۵. نرخ متوسط و نرخ نهایی مالیات کدام گزینه است؟

الف- نرخ متوسط ۲۵/۹ درصد، نرخ نهایی ۳۵ درصد

ب- نرخ متوسط ۲۶/۹ درصد، نرخ نهایی ۴۰ درصد

ج- نرخ متوسط ۲۶ درصد، نرخ نهایی ۴۰ درصد

د- نرخ متوسط ۲۶ درصد، نرخ نهایی ۳۰ درصد

1	الف
2	ب
3	ج
4	ب
5	الف
6	الف
7	ج
8	د
9	د
10	ب
11	د
12	الف
13	الف
14	ج
15	ب
16	ج
17	ب
18	الف
19	د
20	ب
21	ب
22	ب
23	الف
24	ج
25	الف
26	الف
27	الف
28	الف
29	د
30	د
31	الف
32	ج
33	د
34	ب
35	ج



## ۱- در چه دورانی موارد بیشتری از بازارهای نزدیک به شرایط رقابتی وجود داشتند؟

۱. کلاسیکهای اولیه      ۲. سوسیالیست      ۳. کلاسیکهای جدید      ۴. کمونیست

## ۲- اساس نظریه کلاسیکها بر ..... قرار دارد.

۱. حداقل قیمت ها      ۲. حداکثر درآمد      ۳. حداقل هزینه      ۴. رقابت

## ۳- در چه صورت فعالیت بازار، بهترین تخصیص منابع را فراهم می کند؟

۱. شرایط رقابت کامل برقرار باشد      ۲. دولت بر عملکرد آن نظارت کند  
۳. در شرایطی که منابع تولید در دست دولت باشد      ۴. در هیچ شرایطی بهترین تخصیص را فراهم نمی کند

## ۴- طبق نظریه کلاسیک ها دولت درآمد لازم برای انجام وظایف خود را چگونه بدست می آورد؟

۱. از طریق دریافت حداکثر مالیات      ۲. از طریق دریافت حداقل مالیات  
۳. از طریق تأسیس بانک      ۴. از طریق فروش منابع طبیعی مثل نفت ، گاز و ...

## ۵- با توجه به نظریه کلاسیک ها محل برخورد منحنیهای عرضه و تقاضا :

۱. حداقل رفاه را به همراه دارد      ۲. رفاهی به همراه نخواهد داشت  
۳. حداکثر رفاه را به همراه خواهد داشت      ۴. مربوط به رفاه نمی شود

## ۶- کدامیک از گزینه های زیر نشان دهنده افزایش نقش دولت در اقتصاد است؟

۱. اگر در فاصله پانزده سال هزینه های دولت ۵۰ درصد افزایش داشته باشد  
۲. اگر در فاصله پانزده سال هزینه های حقیقی دولت ۵۰ درصد افزایش یابد  
۳. اگر هزینه های دولت از ۸۰۰ به ۱۲۰۰ واحد افزایش یابد و در همان فاصله درآمد ملی از ۲۰۰۰ به ۴۰۰۰ واحد افزایش یابد  
۴. اگر هزینه های دولت از ۶۰۰ به ۱۶۰۰ واحد افزایش یابد و در همان فاصله درآمد ملی از ۲۰۰۰ به ۴۰۰۰ واحد افزایش یابد

## ۷- کدامیک از گزینه های زیر گویای هزینه سرانه دولت است؟

۱. نسبت هزینه دولت به درآمد ملی      ۲. نسبت هزینه دولت به جمعیت  
۳. نسبت درآمد ملی به هزینه دولت      ۴. نسبت جمعیت به هزینه دولت

## ۸- خرید نهاده ها بوسیله بخش عمومی.....

۱. جزء هزینه های انتقالی به حساب می آید
۲. جزء هزینه های سرمایه ای به حساب می آید
۳. جزء هزینه های تمام شدنی به حساب می آید
۴. جزء هزینه های تمام نشدنی به حساب می آید

## ۹- کدامیک از هزینه های زیر را اگر دولت انجام دهد موجب جابجایی منابع از بخش های دیگر به بخش دولتی نمی شود؟

۱. خرید نیروی کار
۲. سرمایه گذاری در ایجاد راه ها
۳. پرداخت به بیکاران
۴. هزینه های تمام شدنی

## ۱۰- در کدامیک از گزینه های زیر دولت بیشترین نقش و دخالت را در اقتصاد ایفا می کند؟

۱. اقتصاد آزاد
۲. کلاسیک
۳. کمونیست
۴. کشورهای صنعتی متکی به اقتصاد آزاد

## ۱۱- کدامیک از اقتصاد دانان زیر بر این باور است که در مرحله ابتدایی رشد و توسعه اقتصادی هزینه های سرمایه گذاری دولت نسبت به سرمایه گذاری کل جامعه رشد بیشتری دارد؟

۱. وایزمن
۲. ریکاردو
۳. رستو
۴. آدام اسمیت

## ۱۲- طبق نظریه ماسگریو در کدامیک از مراحل رشد اقتصادی نسبت هزینه های سرمایه گذاری اجتماعی به هزینه سرمایه گذاری کل افزایش می یابد؟

۱. مرحله بلوغ
۲. مرحله مصرف انبوه
۳. مرحله تولید انبوه
۴. مرحله ابتدایی رشد

## ۱۳- کدامیک از گزینه های زیر نشان دهنده نظریه واگنر در مورد رشد و توسعه اقتصادی است؟

۱. با افزایش درآمدهای سرانه در یک اقتصاد، اندازه نسبی بخش عمومی کاهش خواهد یافت.
۲. عوامل موثر تعیین کننده رشد نسبی بخش خصوصی به درآمد ناخالص ملی بر حسب عوامل غیر اقتصادی است.
۳. اگر درآمد ناخالص ملی کاهش یابد، هزینه های دولت افزایش می یابد.
۴. با افزایش درآمد ناخالص ملی، هزینه های دولت با نرخ بیشتری از درآمد ملی افزایش می یابد.

## ۱۴- هزینه های عمومی برای آموزش ، فرهنگ ، بهداشت و خدمات رفاهی ،

۱. از نظر واگنر دارای کشش درآمدی نسبتا کمی هستند.
۲. از نظر واگنر دارای کشش درآمدی زیادی هستند.
۳. از نظر ماسگریو دارای کشش تقاضای بسیار کمی هستند.
۴. از نظر ماسگریو دارای کشش متقاطع زیادی هستند.

۱۵- عمده مواردی که بازارها قادر به تخصیص موثر منابع نمی شوند ناشی از ..... است.

۱. قیمت گذاری بر اساس هزینه نهایی
۲. پیامدهای خارجی و کالاهای خصوصی
۳. پی آمدهای خارجی و کالا های عمومی
۴. کالاهای خصوصی و عمومی

۱۶- بر اساس نظر ساموئلسون برای کالاها و خدمات عمومی .....

۱. منحنی تقاضای کل از جمع عمودی منحنی های تقاضای تک تک اشخاص بدست می آید.
۲. منحنی تقاضای کل از جمع افقی منحنی های تقاضای تک تک اشخاص بدست می آید.
۳. منحنی عرضه بازار از جمع افقی منحنی های عرضه تک تک بنگاهها بدست می آید.
۴. منحنی تقاضای کل قابل محاسبه نمی باشد.

۱۷- یکی از روش های داخلی کردن هزینه خارجی:

۱. کاهش هزینه تولید است.
۲. پرداخت خسارت به زیان دیده است.
۳. پرداخت مالیات برابر با هزینه داخلی است
۴. دریافت مالیات برابر با هزینه داخلی است

۱۸- هزینه نهایی استفاده از کالای عمومی خالص چقدر است؟

۱. صفر است.
۲. کوچکتر از صفر است.
۳. صفر بعلاوه استفاده کننده جدید.
۴. به میزان افرادی است که از آن استفاده می کنند.

۱۹- ضریب جینی .....

۱. بین یک و بی نهایت است
۲. بین صفر و بی نهایت است
۳. بین منفی یک و مثبت یک است
۴. بین صفر و یک است

۲۰- از دیدگاه نظریه های اقتصادی، نظریه ای که توزیع عادلانه درآمد را بیان و طرح می کند کدامیک از گزینه های زیر است؟

۱. ضریب جینی
۲. منحنی لورنز
۳. نظریه پرداخت به عوامل تولید
۴. هیچ نظریه ای در این مورد وجود ندارد

## ۲۱- نظریه مطلوبیون در توزیع مجدد درآمد در چه صورت صحیح خواهد بود؟

۱. یکسان بودن درآمد افراد
۲. غیر یکسان بودن تابع مطلوبیت
۳. نزولی بودن مطلوبیت نهایی درآمد
۴. نزولی بودن درآمد نهایی

## ۲۲- نظریه بوکنن (طرفدار دخالت دولت) در مورد توزیع درآمد، کدام یک از گزینه های زیر است؟

۱. یک تومان درآمد اضافی برای یک ثروتمند ارزشی کمتر از یک تومان درآمد بیشتر برای فقیر را دارد.
۲. مالیات بر درآمد صاحبان ثروت، باعث کاهش انگیزه کار آنها خواهد شد.
۳. انتقال سوبسید به فقرا نمی تواند الزاما عامل کاهش کار آنها باشد.
۴. دلایلی همچون کسب مهارت، بهره مندی از بهداشت نمی تواند باعث افزایش ساعات کار افراد کم درآمد شود.

## ۲۳- کدام یک از گزینه های زیر جزء حمایت های کوتاه مدت سازمان تامین اجتماعی به حساب می آید؟

۱. حمایت درمانی
۲. مستمری بازنشستگی
۳. بیمه بیکاری
۴. پرداخت مستمری از کار افتادگی

## ۲۴- کدام یک از گزینه های زیر معمولا مشمول نرخ های تنازلی مالیات است؟

۱. مالیات بر بازار
۲. مالیات بر شرکت ها
۳. مالیات بر دستمزد
۴. مالیات بر ثروت

## ۲۵- با توجه به نظریه مالیات مبتنی بر اصل فایده،

۱. مالیات نسبی است
۲. اثر تخصیص و توزیع درآمد مالیاتی بسیار بالا خواهد بود
۳. نرخ نهایی مالیات از نرخ متوسط مالیات بیشتر خواهد بود
۴. چنین نوع مالیاتی نمی تواند در توزیع مجدد درآمد نقش داشته باشد

## ۲۶- از نظر فیشر بهترین پایه مالیاتی کدامیک از گزینه های زیر است؟

۱. مالیات بر درآمد
۲. مالیات بر ثروت
۳. مالیات بر مصرف
۴. مالیات بر سود

## ۲۷- سهم مالیات عرضه کنندگان کمتر و سهم مالیات متقاضیان بیشتر است اگر.....

۱. منحنی عرضه کم کشش تر باشد.
۲. منحنی عرضه باکشش تر باشد.
۳. منحنی عرضه عمودی باشد.
۴. منحنی تقاضا افقی باشد.

## ۲۸- در بازار رقابتی پس از برقراری سوبسید بر واحد و قیمت در بازار .....

۱. سطح تولید و خالص رفاه هر دو افزایش می یابد
۲. سطح تولید و خالص رفاه هر دو کاهش می یابد
۳. سطح تولید کاهش و خالص رفاه افزایش می یابد
۴. سطح تولید افزایش و خالص رفاه کاهش می یابد

## ۲۹- تمام مالیات بر قیمت توسط مصرف کننده پرداخت خواهد شد اگر.....

۱. منحنی تقاضا افقی باشد.
۲. تقاضا کاملاً باکشش باشد.
۳. عرضه کاملاً بی کشش باشد
۴. عرضه کاملاً باکشش باشد.

## ۳۰- صرفه جویی مالیاتی در کدام یک از روش های محاسبه استهلاک بیشتر است؟

۱. استهلاک خط مستقیم
۲. روش استهلاک صد و پنجاه درصد
۳. روش استهلاک دویست درصد
۴. روش استهلاک پنجاه درصد

## ۳۱- اولین تعریف قانونی از بودجه که در تاریخ حقوق مالی و مالیه عمومی ایران ارائه شد، کدام یک از گزینه های زیر است؟

۱. بودجه سندی است که معاملات دخل و خرج مملکتی برای مدت معینی در آن پیش بینی و تصویب می گردد
۲. بودجه برنامه مالی دولت است که برای یک سال مالی تهیه می شود
۳. بودجه سند مالی است مربوط به درآمدها و هزینه های دولت

۴. بودجه سندی است حاوی پیش بینی درآمدها و هزینه های عمومی در ظرف مدت معین در زمان آینده برای وصول هدف های تعیین شده

## ۳۲- کدام یک از موارد زیر جزء مراحل تشکیل دهنده بودجه به حساب نمی آید؟

۱. تهیه و تنظیم
۲. تامین اعتبار
۳. تصویب
۴. اجرا

## ۳۳- بودجه ارزی دولت توسط کدامیک از گزینه های زیر تهیه می شود؟

۱. وزارت اقتصاد و دارایی
۲. کمیسیون تخصیص ارز
۳. رئیس جمهور
۴. وزارت نفت

## ۳۴- پس از تعدیل و انجام تغییرات لازم، لایحه بودجه توسط چه کسی در جلسه علنی مجلس مطرح می شود؟

۱. مخبر کمیسیون بودجه دولت
۲. مخبر کمیسیون بودجه مجلس
۳. رئیس مجلس
۴. شورای پول و اعتبار

### ۳۵- تخصیص اعتبارات بودجه توسط کدامیک از موارد زیر انجام می پذیرد؟

۱. توسط کمیته ای مرکب از نمایندگان وزارت دارایی و سازمان برنامه و بودجه
۲. رئیس جمهور
۳. رئیس مجلس
۴. کمیسیون بودجه مجلس

### ۳۶- لایحه تفریغ بودجه چیست؟ و توسط چه کسی ارائه می شود؟

۱. گزارشی که رئیس جمهور در مورد چگونگی استفاده بودجه باید به مجلس شورای اسلامی ارائه دهد را گویند
۲. گزارش که دیوان محاسبات به مجلس شورای اسلامی در مورد چگونگی مصرف بودجه دولت برای نظارت پارلمانی ارائه می دهد را گویند
۳. گزارشی که وزیر اقتصاد و دارایی به رئیس جمهور در مورد چگونگی مصرف بودجه سازمان های تابعه جهت نظارت اداری ارائه می دهد را گویند
۴. گزارشی که کمیسیون بودجه مجلس در مورد چگونگی و نحوه استفاده دولت از بودجه ارائه می دهد را گویند

### ۳۷- کدامیک از متغیرهای زیر مستقیماً تحت کنترل دولت نیست؟

۱. نرخ مالیات
۲. استخدام عامل کار
۳. درآمد مالیاتی
۴. پرداخت های انتقالی

### ۳۸- درآمد ملی برابر ۳۰۰۰۰ میلیون ریال و میل نهایی به مصرف $\frac{۳}{۴}$ است، اگر دولت هزینه های خود را به مقدار ۱۰۰۰ میلیارد ریال افزایش دهد، درآمد ملی در حالت جدید چند میلیارد ریال خواهد داشت؟

۱. ۴۰۰۰
۲. ۲۶۰۰۰
۳. ۳۴۰۰۰
۴. ۱۵۰۰

### ۳۹- در اقتصادی که منابع بیکار وجود داشته باشد، افزایش در هزینه های دولت .....

۱. بیکاری را تشدید می کند.
۲. افزایش در ستاده ها را به دنبال خواهد داشت.
۳. تاثیری در درآمد ملی ندارد.
۴. افزایش قیمت ها را به همراه خواهد داشت.

### ۴۰- اثر کاهش مالیات کدامیک از گزینه های زیر می تواند باشد؟

۱. کاهش تولید
۲. افزایش مصرف
۳. کاهش درآمد
۴. کاهش مصرف

1	الف
2	ب
3	الف
4	ب
5	ب
6	ب
7	ب
8	ب
9	ب
10	ب
11	الف
12	ب
13	ب
14	ب
15	ب
16	ب
17	ب
18	ب
19	ب
20	ب
21	الف
22	ب
23	ب
24	ب
25	الف
26	ب
27	ب
28	ب
29	ب
30	ب
31	ب
32	ب
33	ب
34	ب
35	الف
36	ب
37	ب
38	ب
39	الف
40	ب